

Cvičení 2

Příklad 1: Napište regulární výrazy pro následující jazyky:

a) Jazyk $\{ab, ba, abb, bab, abbb, babb\}$

Řešení: $ab + ba + abb + bab + abbb + babb$ nebo $(ab + ba)(\varepsilon + b + bb)$

b) Jazyk nad abecedou $\{a, b, c\}$ obsahující právě ta slova, která obsahují podslovo abb .

Řešení: $(a + b + c)^*abb(a + b + c)^*$

c) Jazyk nad abecedou $\{a, b, c\}$ obsahující právě ta slova, která začínají prefixem bca nebo končí sufixem $ccab$.

Řešení: $bca(a + b + c)^* + (a + b + c)^*ccab$

d) Jazyk $\{w \in \{0, 1\}^* \mid |w|_0 \bmod 2 = 0\}$.

Řešení: $1^*(01^*01^*)^*$

e) Jazyk $\{w \in \{0, 1\}^* \mid |w|_0 \bmod 3 = 1\}$.

Řešení: $1^*01^*(01^*01^*01^*)^*$

f) Jazyk $\{w \in \{0, 1\}^* \mid w \text{ obsahuje podslova } 010 \text{ a } 111\}$

Řešení: $(0 + 1)^*010(0 + 1)^*111(0 + 1)^* + (0 + 1)^*111(0 + 1)^*010(0 + 1)^*$

g) Jazyk $\{w \in \{a, b\}^* \mid w \text{ obsahuje podslovo } bab \text{ nebo } |w|_b \leq 3\}$

Řešení: $(a + b)^*bab(a + b)^* + a^*(ba^* + \varepsilon)(ba^* + \varepsilon)(ba^* + \varepsilon)$

h) Jazyk $\{w \in \{a, b\}^* \mid w \text{ obsahuje podslovo } bab \text{ a } |w|_b \leq 3\}$

Řešení: $a^*ba^*baba^* + a^*baba^*ba^* + a^*baba^*$ nebo $(\varepsilon + a^*b)a^*baba^* + a^*baba^*ba^*$

i) Jazyk všech slov nad abecedou $\{a, b, c\}$, ve kterých se nikde nevyskytují dva znaky a hned za sebou.

Řešení: $((b + c + a(b + c))^*(\varepsilon + a))$

Příklad 2: Mějme dva jazyky L_1 a L_2 popsané regulárními výrazy

$$L_1 = \mathcal{L}(0^*1^*0^*1^*0^*), \quad L_2 = \mathcal{L}((01 + 10)^*).$$

a) Jaké je nejkratší a nejdelší slovo v průniku $L_1 \cap L_2$?

Řešení: Nejkratší je ε a nejdelší 01100110 , neboť jazyk L_2 nedovoluje opakovat stejný znak za sebou více než dvakrát.

b) Proč žádný z těchto jazyků L_1 a L_2 není podmnožinou toho druhého?

Řešení: Protože $1 \in L_1 - L_2$ a $010101 \in L_2 - L_1$.

c) Jaké je nejkratší slovo, které nepatří do sjednocení $L_1 \cup L_2$? Je to jednoznačné?

Řešení: 10101, jednoznačně.

Příklad 3: Řekněme, že bychom chtěli navrhnout syntaxi pro zápis jednoduchých aritmetických výrazů pomocí slov nad abecedou

$$\Sigma = \{A, B, \dots, Z, a, b, \dots, z, 0, 1, \dots, 9, ., +, -, *, /, (,)\}.$$

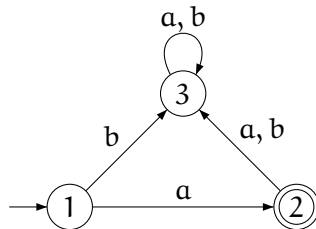
- a) Navrhněte, jak budou vypadat identifikátory, a popište to pomocí regulárního výrazu.
 b) Navrhněte, jak budou vypadat číselné konstanty, a popište to pomocí regulárního výrazu.

Poznámka: Při popisu číselných konstant umožněte jak celočíselné konstanty, např. 129 nebo 0, tak neceločíselné konstanty, např. 3.14, $-1e10$ nebo $4.2E-23$. Zvažte i možnost zápisu číselných konstant v dalších číselných soustavách kromě desítkové (např. hexadecimální, oktálové, binární).

Příklad 4: Pro každý z následujících jazyků sestrojte deterministický konečný automat (DKA), který ho rozpoznává. Vytvořené automaty znázorněte grafem a zapište tabulkou.

a) $L_1 = \{w \in \{a, b\}^* \mid w = a\}$

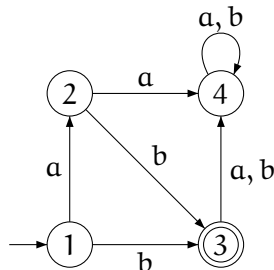
Řešení:



	a	b
→ 1	2	3
← 2	3	3
3	3	3

b) $L_2 = \{b, ab\}$

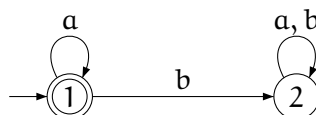
Řešení:



	a	b
→ 1	2	3
2	4	3
← 3	4	4
4	4	4

c) $L_3 = \{w \in \{a, b\}^* \mid \exists n \in \mathbb{N} : w = a^n\}$

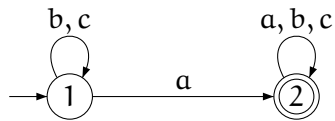
Řešení:



	a	b
↔ 1	1	2
2	2	2

d) $L_4 = \{w \in \{a, b, c\}^* \mid |w|_a \geq 1\}$

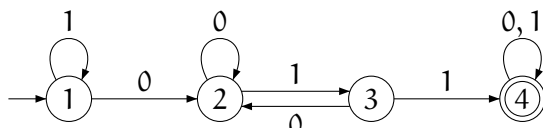
Řešení:



	a	b	c
→ 1	2	1	1
← 2	2	2	2

e) $L_5 = \{w \in \{0, 1\}^* \mid w \text{ obsahuje podslovo } 011\}$

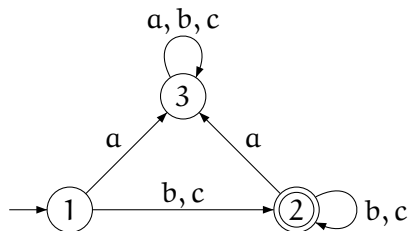
Řešení:



	0	1
→ 1	2	1
2	2	3
3	2	4
← 4	4	4

f) $L_6 = \{w \in \{a, b, c\}^* \mid |w| > 0 \wedge |w|_a = 0\}$

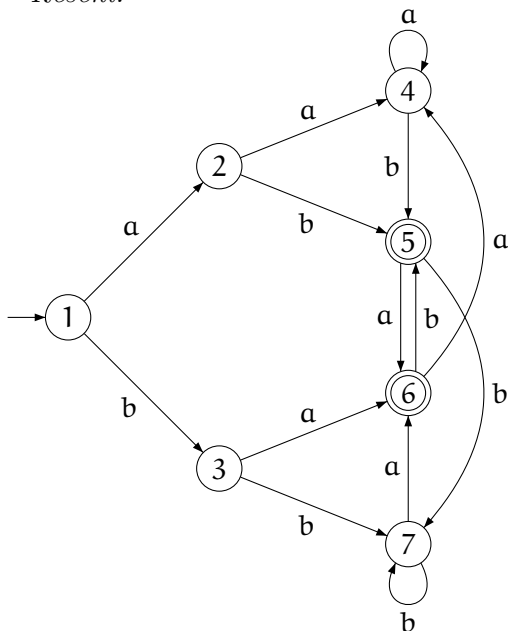
Řešení:



	a	b	c
→ 1	3	2	2
← 2	3	2	2
3	3	3	3

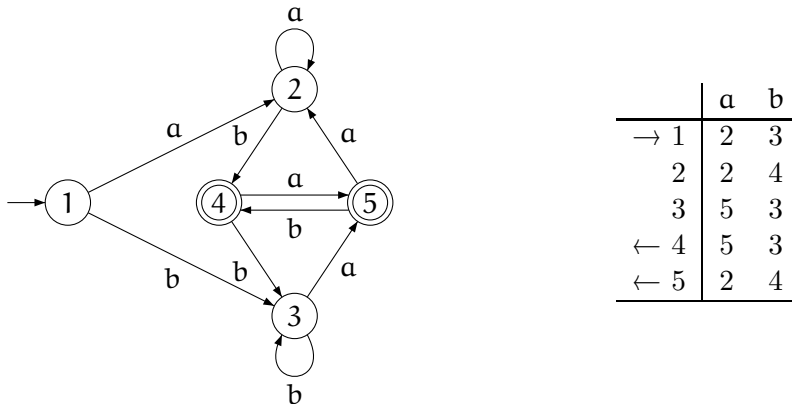
g) $L_7 = \{w \in \{a, b\}^* \mid |w| \geq 2 \text{ a poslední dva symboly slova } w \text{ nejsou stejné}\}$

Řešení:



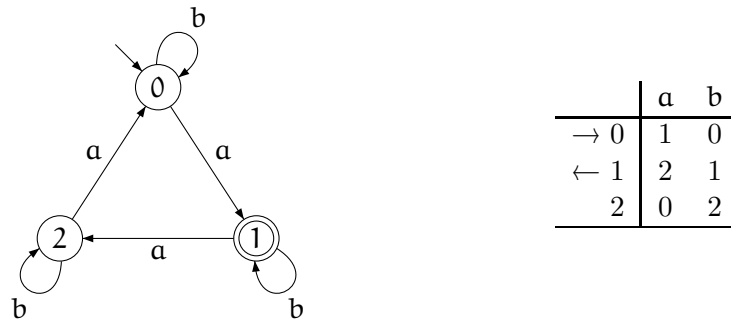
	a	b
→ 1	2	3
2	4	5
3	6	7
4	4	5
← 5	6	7
← 6	4	5
7	6	7

Alternativní řešení:



h) $L_8 = \{w \in \{a, b\}^* \mid |w|_a \bmod 3 = 1\}$

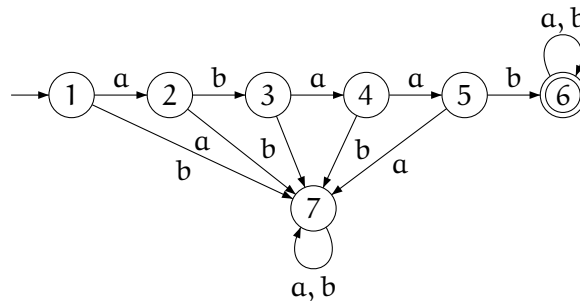
Řešení:



Příklad 5: Sestrojte DKA přijímající slova začínající $abaab$, končící $abaab$ a obsahující $abaab$, tj. sestrojte DKA rozpoznávající následující tři jazyky:

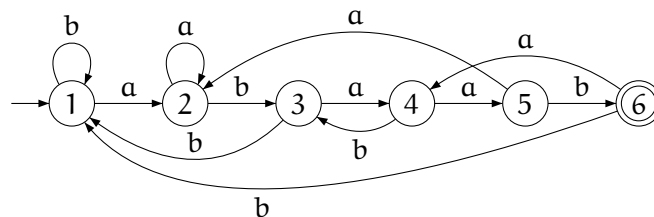
a) $L_1 = \{abaabw \mid w \in \{a, b\}^*\}$

Řešení:



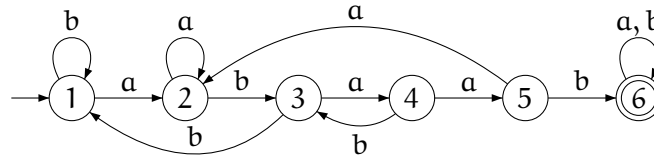
b) $L_2 = \{wabaab \mid w \in \{a, b\}^*\}$

Řešení:



c) $L_3 = \{w_1abaabw_2 \mid w_1, w_2 \in \{a, b\}^*\}$

Řešení:



Příklad 6: Navrhněte obecný postup, jak pro daný DKA $\mathcal{A} = (Q, \Sigma, \delta, q_0, F)$ zjistit, zda:

a) $\mathcal{L}(\mathcal{A}) = \emptyset$

b) $\mathcal{L}(\mathcal{A}) = \Sigma^*$

Řešení: Stačí zjistit množinu všech stavů dosažitelných z q_0 . Pro toto zjištění můžeme použít například algoritmus prohledávání do šířky (breadth-first search).

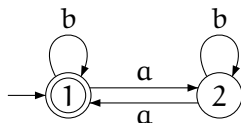
Platí, že $\mathcal{L}(\mathcal{A}) = \emptyset$ právě tehdy, když žádný z dosažitelných stavů není přijímající, a $\mathcal{L}(\mathcal{A}) = \Sigma^*$ právě tehdy, když všechny dosažitelné stavy jsou přijímající.

Příklad 7: Navrhněte DKA $\mathcal{A}_1, \mathcal{A}_2$ takové, že:

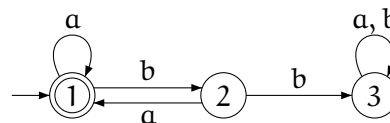
$$\mathcal{L}(\mathcal{A}_1) = \{w \in \{a, b\}^* \mid |w|_a \bmod 2 = 0\}$$

$$\mathcal{L}(\mathcal{A}_2) = \{w \in \{a, b\}^* \mid \text{ve } w \text{ je každý výskyt symbolu } b \text{ následován symbolem } a\}$$

Řešení: \mathcal{A}_1 :



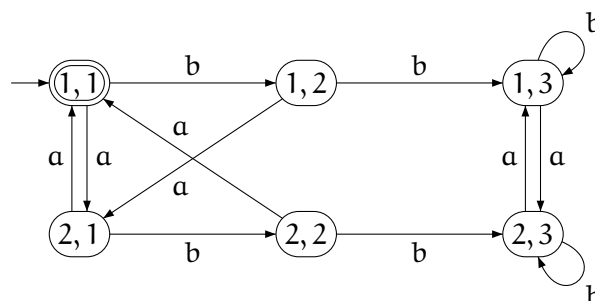
\mathcal{A}_2 :



S využitím automatů $\mathcal{A}_1, \mathcal{A}_2$ sestrojte DKA rozpoznávající následující jazyky:

a) $L_1 = \{w \in \{a, b\}^* \mid |w|_a \bmod 2 = 0 \text{ a ve } w \text{ je každý výskyt symbolu } b \text{ následován symbolem } a\}$

Řešení:



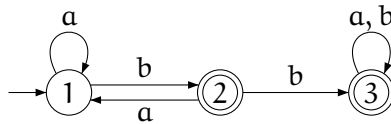
- b) $L_2 = \{w \in \{a, b\}^* \mid |w|_a \bmod 2 = 0 \text{ nebo je ve } w \text{ každý výskyt symbolu } b \text{ následován symbolem } a\}$

Řešení: Stejný automat jako v (a), akorát, že množina přijímajících stavů je

$$F = \{(1, 1), (1, 2), (1, 3), (2, 1)\}$$

- c) $L_3 = \{w \in \{a, b\}^* \mid \text{ve } w \text{ není nějaký výskyt symbolu } b \text{ následován symbolem } a\}$

Řešení:



- d) $L_4 = \{w \in \{a, b\}^* \mid |w|_a \bmod 2 = 0 \text{ a ve } w \text{ není nějaký výskyt symbolu } b \text{ následován symbolem } a\}$

Řešení: Stejný automat jako v (a), akorát, že množina přijímajících stavů je

$$F = \{(1, 2), (1, 3)\}$$

- e) $L_5 = \{w \in \{a, b\}^* \mid \text{jestliže } |w|_a \bmod 2 = 0, \text{ pak je ve } w \text{ každý výskyt symbolu } b \text{ následován symbolem } a\}$

Řešení: Stejný automat jako v (a), akorát, že množina přijímajících stavů je

$$F = \{(1, 1), (2, 1), (2, 2), (2, 3)\}$$

- f) $L_6 = \{w \in \{a, b\}^* \mid |w|_a \bmod 2 = 0 \text{ právě, když je ve } w \text{ každý výskyt symbolu } b \text{ následován symbolem } a\}$

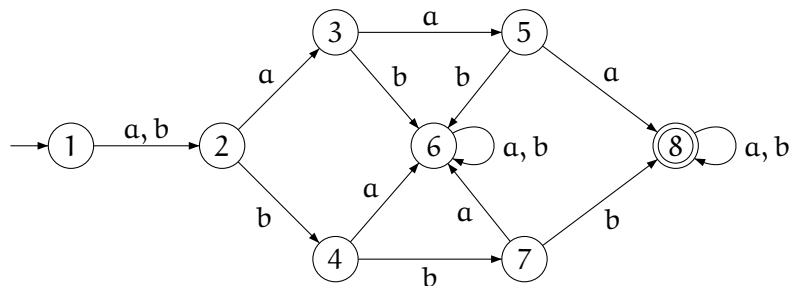
Řešení: Stejný automat jako v (a), akorát, že množina přijímajících stavů je

$$F = \{(1, 1), (2, 2), (2, 3)\}$$

Příklad 8: Pro každý z následujících jazyků sestrojte DKA, který ho rozpoznává. Vytvořené automaty znázorníte grafem a zapište tabulkou.

- a) $L_1 = \{w \in \{a, b\}^* \mid |w| \geq 4 \text{ a druhý, třetí a čtvrtý symbol slova } w \text{ jsou stejné}\}$

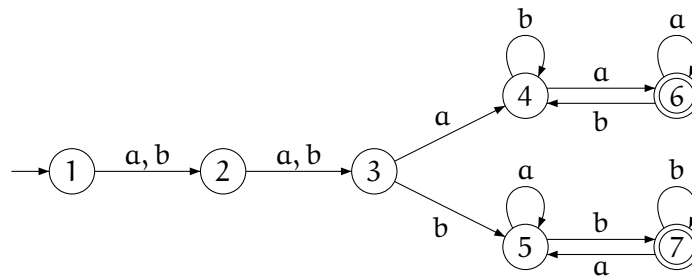
Řešení:



	a	b
→ 1	2	2
2	3	4
3	5	6
4	6	7
5	8	6
6	6	6
7	6	8
Ⓢ	8	8

b) $L_2 = \{w \in \{a, b\}^* \mid |w| \geq 4 \text{ a třetí a poslední symbol slova } w \text{ jsou stejné}\}$

Řešení:

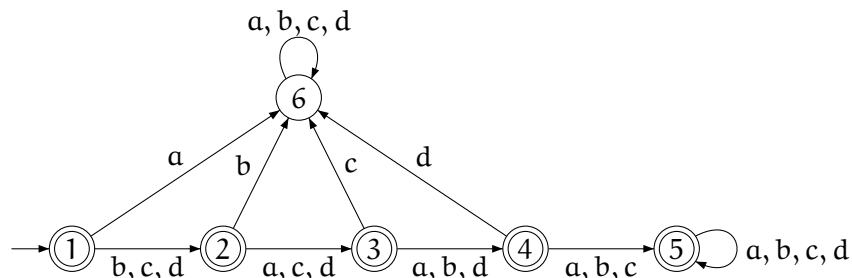


	a	b
→ 1	2	2
2	3	3
3	4	5
4	6	4
5	5	7
Ⓢ	6	4
Ⓢ	5	7

c) $L_3 = \{w \in \{a, b, c, d\}^* \mid w \text{ nezačíná } a, \text{ druhý znak není } b, \text{ třetí znak není } c \text{ a čtvrtý znak není } d\}$

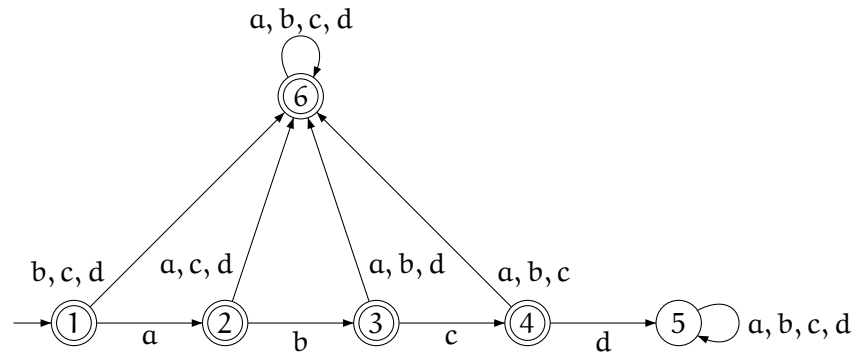
Poznámka: Tento jazyk zahrnuje i ta slova w , kde $|w| < 4$.

Řešení:



d) $L_4 = \{w \in \{a, b, c, d\}^* \mid w \text{ nezačíná } a \text{ nebo druhý znak není } b \text{ nebo třetí znak není } c \text{ nebo čtvrtý znak není } d\}$

Řešení:



Příklad 9: Navrhněte obecný postup, jak pro dané DKA $\mathcal{A}_1 = (Q_1, \Sigma, \delta_1, q_1, F_1)$ a $\mathcal{A}_2 = (Q_2, \Sigma, \delta_2, q_2, F_2)$ zjistit, zda $\mathcal{L}(\mathcal{A}_1) = \mathcal{L}(\mathcal{A}_2)$.

Řešení: Jednou z možností je využít toho, že pro libovolné jazyky L_1, L_2 platí $L_1 = L_2$ právě tehdy, když

$$(L_1 \cap \overline{L_2}) \cup (\overline{L_1} \cap L_2) = \emptyset.$$

Stačí tedy sestrojít DKA \mathcal{A} takový, že $L(\mathcal{A}) = (L_1 \cap \overline{L_2}) \cup (\overline{L_1} \cap L_2)$, kde $L_1 = L(\mathcal{A}_1)$ a $L_2 = L(\mathcal{A}_2)$, a zjistit zda $L(\mathcal{A}) = \emptyset$, k čemuž můžeme použít postup z příkladu 6.

Jiná varianta je založená na konstrukci podobné jako u průniku nebo sjednocení (tj. automat s množinou stavů $Q_1 \times Q_2$, který simuluje činnost automatů \mathcal{A}_1 a \mathcal{A}_2 současně). U tohoto automatu stačí zjistit, zda je dosažitelný nějaký stav z množiny

$$(F_1 \times (Q_2 - F_2)) \cup ((Q_1 - F_1) \times F_2),$$

tj. stav odpovídající situaci, kdy by jeden z automatů $\mathcal{A}_1, \mathcal{A}_2$ dané slovo přijímal a druhý ne. Pokud nějaký takový dosažitelný stav existuje, tak $L(\mathcal{A}_1) \neq L(\mathcal{A}_2)$, v opačném případě $L(\mathcal{A}_1) = L(\mathcal{A}_2)$.

Poznámka: Dá se vymyslet celá řada dalších různých postupů. Nejefektivnější algoritmy jsou založené na rozkladu na třídy ekvivalentních stavů. Tímto se však v UTI nezabýváme.